

- ۱- هنگامی که بخواهیم دایره با ضخامت (Donut) توخالی دیده شود از چه دستوری کمک می گیریم؟
الف- Q Text
ب- Fill
ج- Ch Prop
د- Change

- ۲- در دستور Offset اولین سوالی که پرسیده می شود چیست؟
الف- موضوع مورد تکرار
ب- زاویه تکرار
ج- فاصله بین موضوعی که قبلاً رسم شده با موضوعی که دستور Offset ایجاد می کند
د- فاصله افقی تکرار

- ۳- هنگامی که دستور E Trac را می دهیم زیر دستور Trace Width معرف چیست؟
الف- موقعیت شروع خط
ب- ضخامت خطوط
ج- مشخص کننده پایان اولین خط
د- تعیین کننده پایان دومین خط

- ۴- جهت ترسیم دایره به روش انتخاب مرکز و قطر از کدام روش استفاده می شود؟
الف- Center, Radius
ب- Center, Diameter
ج- 2-Point
د- Point

- ۵- کدامیک از موارد زیر صحیح است؟
الف- Save : برای در خواست يك نام برای نقشه و ذخیره کردن آن.
ب- Save As : مانند فرمان Save است ولی امکان تغییر نام نقشه جاری را فراهم می کند.
ج- Qsave : برای ذخیره کردن نقشه جاری با استفاده از نام فعلی آن.
د- هر سه مورد .

- ۶- کدام متغیر سیستم تعیین کننده اندازه نقطه است؟
الف- Pdsiz
ب- Pickbox
ج- Pdmode
د- Perimeter

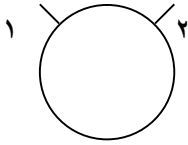
- ۷- برای انتخاب کلیه اشکال ترسیم شده در دستورات ویرایشی از کدام حالت انتخاب موضوعات استفاده می شود؟
الف- Last
ب- Crossing
ج- Fence
د- All

- ۸- از دستور Layer می توان ...
الف- جهت تهیه گزارش از موضوعات ترسیم شده استفاده نمود.
ب- جهت ایجاد یا جاری کردن يك لایه استفاده کرد.
ج- جهت اندازه گیری فاصله بین دو نقطه مورد استفاده قرار داد.
د- جهت تعیین مختصات يك نقطه از ترسیم مورد استفاده قرار داد.

- ۹- گزینه Reset در دستور Time نشان دهنده چیست؟
الف- روشن کردن زمان سنج
ب- خاموش کردن زمان سنج
ج- صفر کردن زمان سنج
د- هیچکدام

- ۱۰ در فرمان Select Object انتخاب گزینه Remove باعث می شود ؟
 الف-موضوع انتخاب شده از حالت انتخاب خارج شود.
 ب-موضوع انتخاب شده حذف شود.
 ج-موضوع انتخاب شده برای حذف علامت زده شود.
 د-هیچکدام

۱۱ در فرمان Break در صورتی که ابتدا شماره ۱ و سپس شماره ۲ علامت زده شود نتیجه چه خواهد بود؟



الف- الف-



ج- پیغام خطا



۱۲ برای تبدیل شکل بهترین فرمان کدام است؟

- الف-Break
 ب-Trim
 ج-Erase
 د-Clear

۱۳ برای جابجائی يك موضوع بدون از بین رفتن اتصالات آن کدام گزینه مناسب است؟

- الف-Move
 ب-Stretch
 ج-Trim
 د-Break

۱۴ هنگامی که بخواهیم اندازه يك ترسیم را با ضریبی معین تغییر دهیم از چه دستوری استفاده می کنیم؟

- الف - Scale
 ب - Stretch
 ج - Ltscale
 د - Block

۱۵ Aspect در فرمان Grid چه عملی را انجام می دهد ؟

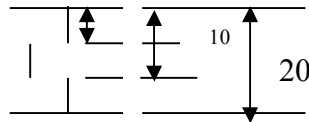
- الف - Snap را فعال می کند .
 ب - نقاط Grid را در صفحه نمایش خاموش می نماید.
 ج - جهت تعیین فاصله نقاط Grid به صورت دو محور X,Y استفاده می شود .
 د - فاصله X,Y در دستور Snap را بطور مجزا تعیین می کند .

۱۶ عملکرد دستور Aperture چیست ؟

- الف - وظیفه کنترل نمایش متون نوشته شده را بعده دارد .
 ب - قادر به ویرایش متون وارد شده بعد از درج يك بلوك است .
 ج - قادر به تنظیم اندازه مربع Osnap است .
 د - قادر به تهیه گزارش از اطلاعات وارد شده در هنگام درج بلوك است .

- ۱۷- توسط گزینه Text Gap در دستور Dim می توان
 الف - اندازه فضاي خالي دو طرف متن اندازه گيري را تعیین نمود .
 ب - عدد را بصورت قائم یا افقي نوشت .
 ج - مقدار اندازه را روی خط واصل نوشت .
 د - مقادیر را رند کرد .

- ۱۸- به ترسیم زیر دقت کنید از چه روشی برای اندازه گیری استفاده شده است ؟



- الف - Linear
 ب - Continue
 ج - Base Line
 د - Leader

- ۱۹- برای ورود به فضاي کاغذ به چه صورتی می توان عمل نمود؟
 الف - استفاده از دستور Mspace
 ج - استفاده از متغییر Tilemode
 ب - استفاده از دستور Mview
 د - استفاده از دستور Vpoint

- ۲۰- در دستور Ucs گزینه View به چه معناست؟
 الف - دستگاه مختصات جدیدی ایجاد میکند که صفحه Xy عمود بر صفحه نمایش جاری باشد.
 ب - دستگاه مختصات جدیدی ایجاد میکند که صفحه Xy موازی صفحه نمایش جاری باشد.
 ج - تصویر ایزومتریک شکل را می دهد .
 د - هیچکدام

- ۲۱- با استفاده از کدام دستور می توان لایه های هر پنجره را بطور مستقل کنترل نمود ؟
 الف - Layer
 ب - Mview
 ج - Vplayer
 د - Mvsetup

- ۲۲- در دستور Mline کارگزینه Justification چیست ؟
 الف - فواصل خطوط مرکب را نشان میدهد .
 ب - می توان سبک جدید تعیین نمود .
 ج - فاصله دو خط را می توان کم و زیاد کرد .
 د - موقعیت دو خط را نسبت به هم می توان تعیین نمود .

- ۲۳- حلقه هایی که توسط فرمان Region به ناحیه تبدیل می شوند چه شرایطی باید داشته باشند ؟
 الف - حلقه تولید يك محیط بسته کند .
 ب - خطوط آن یکدیگر را قطع نکنند .
 ج - سطح ایجاد شده يك سطح ساده بوده و داراي گره نباشد .
 د - هر سه مورد .

- ۲۴- کدامیک از دستورات زیرمی توانند موضوع بلوکه شده را به موضوعات سازنده اش تجزیه کنند ؟
 الف - Measure
 ب - Explode
 ج - Cut Clip

۲۵- کدام تابع در اتوکد قسمتی از رشته را بر می گرداند؟

- الف - Icon
- ب - Diesel
- ج - Substr
- د - Strlen

۲۶- کدام مورد باعث می شود بارگذاری مجدد صفحه از وب سایت مربوطه انجام شود؟

- الف - Back
- ب - Home
- ج - Load
- د - Refresh

۲۷- توسط کدامیک از گزینه های زیر می توانیم یک کپی از فایل موجود در کامپیوترمان را به سایت اینترنتی انتقال دهیم؟

- الف - Url
- ب - Hyper Link
- ج - Down Load
- د - Up Load

۲۸- کدامیک از گزینه های زیر به مرور گر های وب اجازه می دهد قالبهای ناشناخته فایل را نمایش دهد؟

- الف - Dwf
- ب - Plug In
- ج - Load File
- د - Plot File

۲۹- کدام فرمت فایل به مفهوم قالب ترسیمی وب می باشد؟

- الف - Dwg
- ب - Dwn
- ج - Dwf
- د - Bmp

۳۰- در فرمان Copy، کاربرد گزینه multiple کدام است؟

- الف-کپی از موضوع
- ب-دو مرتبه کپی از موضوع
- ج-کپی چندگانه
- د-کپی ترکیبی

۳۱- فرمان Redo در اتوکد چند بار پشت سر هم قابل اجرا است؟

- الف-یک مرتبه
- ب-دو مرتبه
- ج-چند مرتبه بستگی به دستورات قبل
- د-محدودیت ندارد

۳۲- برای برگرداندن آخرین موضوع حذف شده توسط فرمان erase استفاده می کنیم؟

- الف-Undo
- ب-Redo
- ج-Oops
- د-مورد الف و ج

۳۳- برای مشاهده مشخصات یک دایره از کدام فرمان استفاده می کنیم؟

- الف-Dist
- ب-Id
- ج-List
- د-Status

۳۴- برای به دست آوردن محیط يك چند ضلعي از کدام فرمان استفاده مي كنيم؟

الف- Area

ب- List

ج- Id

د- مورد الف و ب

۳۵- برای مشاهده لیست کامل موضوعات نقشه کدام فرمان مناسب است؟

الف- List

ب- Dblist

ج- Area

د- تمام موارد

۳۶- کدام فرمان جزء دستورات گزارشگیری از نقشه نمی باشد؟

الف- Id

ب- List

ج- Time

د- Block

۳۷- پس از اجرای فرمان Block اولین سوالی که پرسیده می شود چیست؟

الف- Select Object

ب- Block Name

ج- Base Point

د- Select Point

۳۸- برای ذخیره بلاک در يك فایل کدام فرمان کاربرد دارد؟

الف- Block

ب- Insert

ج- Wblock

د- Minsert

۳۹- برای تغییر اندازه يك موضوع از کدام فرمان می توان استفاده کرد؟

الف- Change

ب- Scale

ج- Extend

د- مورد الف و ب

۴۰- در فرمان Array برای کپی به صورت دایره ای کدام گزینه را انتخاب می کنیم؟

الف- C

ب- R

ج- P

د- هیچکدام

۴۱- برای انتقال يك دایره که در وسط يك خط رسم شده است به انتهای خط با استفاده از فرمان Move در پاسخ به گزینه Base Point

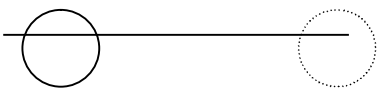
چه چیزی را تایپ می کنیم؟

الف- End

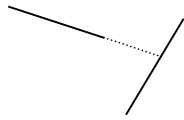
ب- Cen

ج- Mid

د- Tan



۴۲- برای امتداد دادن يك خط تا يك موضوع کدام فرمان مناسب است؟

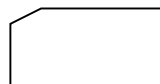
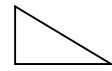
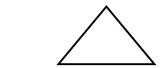



- الف-Strech
- ب-Move
- ج-Extend
- د-Copy

۴۳ برای گرد کردن گوشه های يك چهار ضلعي از کدام فرمان استفاده مي كنيم؟

- الف-Arc
- ب-Fillet
- ج-Chamfer
- د-Rotate

۴۴ در صورتی که فرمان Chamfer روی شکل زیر اعمال شود به چه صورتی تبدیل می شود؟

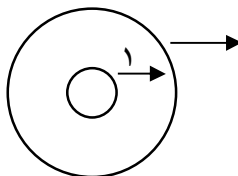


الف- ب- ج- د-

۴۵ با استفاده از فرمان Change چه کاری را نمی توان انجام داد؟

- الف-تغییر رنگ
- ب-تغییر لایه
- ج-تغییر ضخامت
- د-تغییر شکل

۴۶ برای کپی دایره دوم کدام فرمان مناسب می باشد؟



دایره ۲

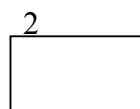
- الف-Copy
- ب-Move
- ج-Offset
- د-Mirror

۴۷ در محیط اتوکد ۴ ابرای خروج از صفحه تصویر گرافیکی و ورود به صفحه متنی یا بر عکس از کدام کلید تابعی استفاده می شود؟

- الف - F11
- ب - F2
- ج - F4
- د - F6

۴۸ اگر در مختصات نسبی قطبی از علامت @ استفاده نکنیم اتوکد نقطه جدید را نسبت به کدام نقطه در نظر می گیرد؟

- الف - نسبت به نقطه ماقبل
- ب - نسبت به نقطه آخر
- ج - نسبت به نقطه مبدا
- د - نسبت به خودش



4

3

۴۹ دستور Solid شکل روبرو را به چه صورت تو پرتسیم می کند؟

- الف - P4→P2→P1→P3
- ب - P1→P3→P2→P4
- ج - P2→P1→P3→P4
- د - P3→P4→P2→P1

۵۰ فرق میان گزینه های Align و Fit در دستور Text یا Dtext کدامیک از موارد زیر است؟

- الف - Fit همانند Align است با این تفاوت که سبب مشخص نمودن مکان وسط و پایین يك متن می گردد.
- ب - Fit همانند Align است با این تفاوت که سبب مشخص نمودن مکان پایانی يك متن می گردد.
- ج - Fit همانند Align است با این تفاوت که ارتفاع متن در Fit تغییر نمی کند ولی در حالت Align تغییر می یابد.
- د - هیچکدام



کاربر اکوند

کد سؤال :

شماره شناسایی

شماره شناسایی



شماره شناسایی

شماره شناسایی

۱۴۰۱/۱۶۶-۱-۴۷

کد سؤال :

الف	ب	ج	د	۳۵
الف	ب	ج	د	-۳۶
الف	ب	ج	د	-۳۷
الف	ب	ج	د	-۳۸
الف	ب	ج	د	-۳۹
الف	ب	ج	د	-۴۰
الف	ب	ج	د	-۴۱
الف	ب	ج	د	-۴۲
الف	ب	ج	د	-۴۳
الف	ب	ج	د	-۴۴
الف	ب	ج	د	-۴۵
الف	ب	ج	د	-۴۶
الف	ب	ج	د	-۴۷
الف	ب	ج	د	-۴۸
الف	ب	ج	د	-۴۹
الف	ب	ج	د	-۵۰

الف	ب	ج	د	-۱۸
الف	ب	ج	د	-۱۹
الف	ب	ج	د	-۲۰
الف	ب	ج	د	-۲۱
الف	ب	ج	د	-۲۲
الف	ب	ج	د	-۲۳
الف	ب	ج	د	-۲۴
الف	ب	ج	د	-۲۵
الف	ب	ج	د	-۲۶
الف	ب	ج	د	-۲۷
الف	ب	ج	د	-۲۸
الف	ب	ج	د	-۲۹
الف	ب	ج	د	-۳۰
الف	ب	ج	د	-۳۱
الف	ب	ج	د	-۳۲
الف	ب	ج	د	-۳۳
الف	ب	ج	د	-۳۴

الف	ب	ج	د	-۱
الف	ب	ج	د	-۲
الف	ب	ج	د	-۳
الف	ب	ج	د	-۴
الف	ب	ج	د	-۵
الف	ب	ج	د	-۶
الف	ب	ج	د	-۷
الف	ب	ج	د	-۸
الف	ب	ج	د	-۹
الف	ب	ج	د	-۱۰
الف	ب	ج	د	-۱۱
الف	ب	ج	د	-۱۲
الف	ب	ج	د	-۱۳
الف	ب	ج	د	-۱۴
الف	ب	ج	د	-۱۵
الف	ب	ج	د	-۱۶
الف	ب	ج	د	-۱۷